



MUNICÍPIO DA ESTÂNCIA BALNEÁRIA DE PRAIA GRANDE

Estado de São Paulo
SEDUC - Secretaria de Educação

SEMANAS 11 E 12 SALA DE AULA



Disciplina: Matemática

2º ano do Ensino Fundamental

PROBLEMATIZANDO:

1- NA ROÇA DO SEU MANDUCA HÁ MUITAS MELANCIAS. LINO ESTAVA CUIDANDO DE 25 MELANCIAS. QUANDO O JOAQUIM PASSOU NA ROÇA, LINO DEU 12 MELANCIAS PARA ELE FAZER SUCO PARA SEUS FILHOS. QUANTAS MELANCIAS RESTARAM PARA LINO CUIDAR?

D	U

RESPOSTA: RESTAURAM PARA LINO CUIDAR _____ MELANCIAS.

2- SIMÃO TINHA 18 BANANAS. ELE DEU 6 BANANAS PARA THIAGO. COM QUANTAS BANANAS SIMÃO FICOU?

D	U

RESPOSTA: SIMÃO FICOU COM _____ BANANAS.

3- NO CURRAL DA VACA MIMOSA HAVIAM 20 QUEIJOS. ELA DISTRIBUIRÁ ENTRE O ESQUILO MIRO E O BURRO POMPEU. COM QUANTOS QUEIJOS CADA UM FICARÁ?



RESPOSTA: CADA UM FICARÁ COM _____ QUEIJOS.


4- CONTE QUANTOS PINTINHOS A GALINHA CHOCA VAI TER. ESCREVA A RESPOSTA EM SEU CADERNO.



A) QUANTOS PINTINHOS FALTAM PARA CHEGAR A UMA DEZENA? _____

B) QUANTOS FALTAM PARA CHEGAR A UMA DÚZIA? _____

5- OBSERVE AS ESTRELAS E RESPONDA O QUE SE PEDE EM SEU CADERNO:



QUAL NÚMERO ACIMA REPRESENTA:

A) UMA DEZENA: _____

B) TRÊS DEZENAS: _____

C) MEIA DÚZIA: _____

D) O ANTECESSOR DE 41: _____

E) O SUCESSOR DE 78: _____

6- SEPRE EM SEU CADERNO: CENTENA, DEZENA E UNIDADE.

A) LEONOR TEM **235** CARRINHOS DE BRINQUEDO



C	D	U

B) BIANCA TEM **35** BICICLETAS



D	U

C) CAROLINA TEM **160** URSINHOS DE PELÚCIA



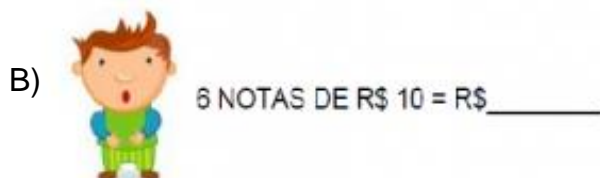
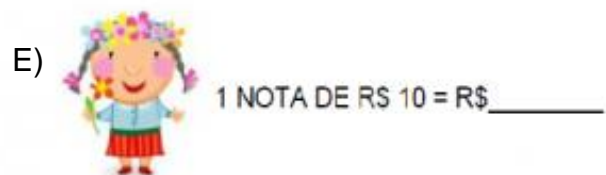
C	D	U

7- OBSERVE OS VALORES DAS COMIDAS DA FEIRINHA DO BAIRRO DO CAIÇARA. COMPLETE A TABELA EM SEU CADERNO:



	COMIDAS	VALORES
A)	FATIA DE BOLO	
B)	PIPOCA	
C)	BRIGADEIRO	
D)	MILHO VERDE	

8- DESCUBRA O TOTAL EM DINHEIRO QUE CADA CRIANÇA POSSUI CONTANDO DE 10 EM 10:



C)



4 NOTAS DE R\$ 10 = R\$ _____

G)



7 NOTAS DE R\$ 10 = R\$ _____

D)



5 NOTAS DE R\$ 10 = R\$ _____

9- ARME E EFETUE AS CONTINHAS DE ADIÇÃO EM SEU CADERNO:

A) $56 + 13 =$

D	U

B) $34 + 5 =$

D	U

C) $18 + 10 =$

D	U

D) $25 + 13 =$

D	U

E) $40 + 10 =$

D	U

10- ARME E EFETUE AS CONTINHAS DE SUBTRAÇÃO EM SEU CADERNO:

A) $38 - 5 =$

D	U

B) $18 - 12 =$

D	U

C) $45 - 15 =$

D	U

D) $16 - 16 =$

D	U

E) $49 - 38 =$

D	U

11- DESAFIO:

A) QUANTOS PÉS VOCÊ VÊ DEBAIXO DA PORTA? _____

B) QUANTAS PESSOAS ESTÃO ATRÁS DA PORTA? _____

